



Correction

Quelle fraction de chaque ensemble est coloriée ?

a)   /

b)   /


4 étoiles c'est bien la moitié de 8


3 carrés, c'est 1 tiers de 9


c)   /


d)   /

Coche la case lorsque  $\frac{3}{5}$  de l'ensemble est colorié.

a) 


b) 

c) 

d) 

e) 

Que vaut  $\frac{1}{4}$  de 12 ?



Divise 12 en 4 groupes égaux.  
Un groupe, c'est  $\frac{1}{4}$  de 12.  
Chaque groupe contient  ronds.



$\frac{1}{4}$  de 12 =

Trouve la valeur de chaque fraction d'ensemble.

a)  $\frac{3}{5}$  de 10 =

b)  $\frac{2}{3}$  de 18 =




 3 parts sur 5 parts égales.

c)  $\frac{5}{8}$  de 24 =

d)  $\frac{3}{4}$  de 36 =

Tu peux faire un dessin pour t'aider.

